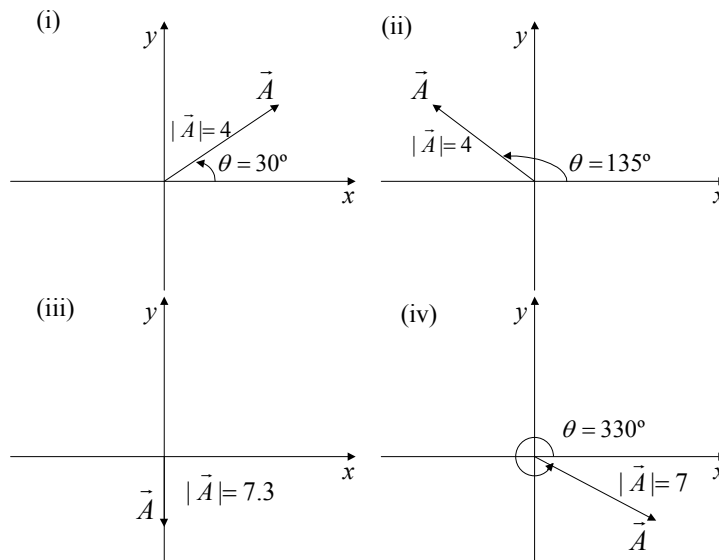


## Repaso matemático

1 - Hallar el módulo del vector de origen en (20, -5, 8) y extremo en (-4, -3, 2).

2 - a) Hallar las componentes cartesianas de los siguientes vectores:



b) Hallar el módulo y dirección de los siguientes vectores y representarlos gráficamente:

i)  $\vec{A} = (3, 3)$ ; ii)  $\vec{B} = (-1.25, -2.16)$ ; iii)  $\vec{C} = (-2.5, 4.33)$ ; iv)  $\vec{D} = (5, 0)$  y v)  $\vec{E} = (0, 3)$

3 – Analice las propiedades de los vectores  $\vec{A}$  y  $\vec{B}$  que satisfacen las siguientes relaciones:

a)  $\vec{A} + \vec{B} = \vec{C}$  y  $|\vec{A}| + |\vec{B}| = |\vec{C}|$

b)  $\vec{A} + \vec{B} = \vec{A} - \vec{B}$

c)  $\vec{A} + \vec{B} = \vec{C}$  y  $A^2 + B^2 = C^2$

4 - Usando la definición de producto escalar, calcular

a)  $\hat{i} \cdot \hat{j}$                       b)  $\hat{i} \cdot \hat{k}$                       c)  $\hat{j} \cdot \hat{k}$

d)  $\hat{i} \cdot \hat{i}$                       e)  $\hat{j} \cdot \hat{j}$                       f)  $\hat{k} \cdot \hat{k}$

donde  $\hat{i} = (1, 0, 0)$ ,  $\hat{j} = (0, 1, 0)$ ,  $\hat{k} = (0, 0, 1)$ .

5 - Haciendo uso de la propiedad distributiva del producto escalar respecto de la suma, es decir,  $\vec{C} \cdot (\vec{E} + \vec{F}) = \vec{C} \cdot \vec{E} + \vec{C} \cdot \vec{F}$  y de los resultados obtenidos en el ejercicio anterior, demostrar que si:

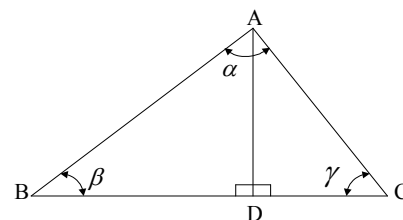
$\vec{A} = a_x \hat{i} + a_y \hat{j} + a_z \hat{k}$  y  $\vec{B} = b_x \hat{i} + b_y \hat{j} + b_z \hat{k}$  entonces:  $\vec{A} \cdot \vec{B} = a_x b_x + a_y b_y + a_z b_z$

6 - a) Utilizando el teorema de Pitágoras y la definición de las funciones trigonométricas, demostrar en el triángulo de la figura el “Teorema del Coseno”:

$$AC^2 = AB^2 + BC^2 - 2AB \cdot BC \cos \beta$$

donde AB, BC y AC son las longitudes de los respectivos lados.

AYUDA: Considerar los triángulos rectángulos ABD y ADC.



b) Utilizando la definición del seno demostrar sobre los mismos triángulos que:

$AC/\text{sen } \beta = AB/\text{sen } \gamma$ ,

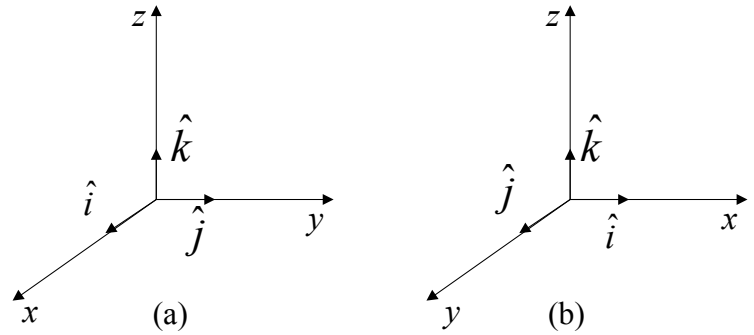
y generalizar el resultado para demostrar el “Teorema del Seno”:

$$AC/\text{sen } \beta = AB/\text{sen } \gamma = BC/\text{sen } \alpha.$$

7 - a) Sean  $\hat{i}$ ,  $\hat{j}$  y  $\hat{k}$  los versores de la terna mostrada en la figura (a). Usando la definición de producto vectorial, calcular

(i)  $\hat{i} \times \hat{j}$       (ii)  $\hat{k} \times \hat{i}$       (iii)  $\hat{j} \times \hat{k}$   
 (iv)  $\hat{i} \times \hat{i}$       (v)  $\hat{j} \times \hat{j}$       (vi)  $\hat{k} \times \hat{k}$

b) Repetir el cálculo anterior para la terna de la figura (b) y comparar con los resultados obtenidos en ambos casos.

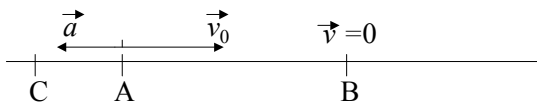


NOTA: En lo sucesivo se convendrá en trabajar con ternas derechas (caso (a)), en las cuales  $\hat{i} \times \hat{j} = \hat{k}$ .

8 - Hallar la expresión de los vectores posición, velocidad y aceleración en coordenadas polares y cilíndricas. Representar gráficamente.

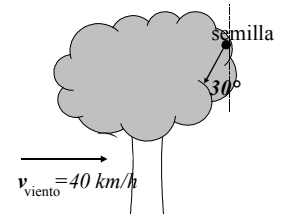
## CINEMÁTICA

- 1 - Un móvil que se encuentra en un punto A en un cierto instante  $t_0$ , viaja con velocidad constante. Cuando transcurre un tiempo  $t = 10 \text{ s}$  el móvil pasa por un punto B que está a distancia  $d = 10 \text{ km}$  de A.
- Halle  $v$ , en unidades MKS, en cgs y en km/h
  - Dé las expresiones para la posición en función del tiempo (con origen de tiempos en  $t_0 = 0 \text{ s}$ ) con los siguientes sistemas de coordenadas:
    - eje x contiene a A y a B y tiene origen en A;
    - ídem i) pero con origen en B;
    - AB forma  $30^\circ$  con el eje x (¿significa esto que el movimiento representado no es unidimensional?). Grafíquelas.
  - Ídem b) considerando un origen de tiempos en  $t = t_0 > 0$
- 2 - Un automóvil viaja en línea recta con velocidad constante desde A hasta C, pasando por B. Se sabe que por A pasa a las 12 hs, por B a las 13 hs y por C a las 15 hs ( $AB = 50 \text{ km}$ ,  $BC = \text{desconocido}$ ).
- Elija un origen de tiempo y un sistema de referencia.
  - Elija un instante  $t_0$ . ¿Cuánto vale  $x_0$ ? Escriba la ecuación de movimiento.
  - Elija otro instante  $t'_0$ . ¿Cuánto vale  $x'_0$ ? Escriba la ecuación de movimiento.
  - Calcule la velocidad del auto y la distancia BC.
- 3 - a) Un ciclista recorre la mitad de su trayecto a velocidad constante de  $40 \text{ km/h}$  y la otra mitad a  $60 \text{ km/h}$ . Calcule la velocidad media del ciclista.  
 b) Un ciclista pedalea la mitad del tiempo imprimiéndole a la bicicleta una velocidad constante de  $30 \text{ km/h}$  y la otra mitad le imprime una velocidad también constante de  $20 \text{ km/h}$ . Calcule la velocidad media del ciclista.
- 4 - Un móvil (1) viaja en línea recta desde A hacia B (distancia  $AB = 300 \text{ km}$ ) a  $80 \text{ km/h}$  y otro móvil (2) lo hace desde B hacia A a  $50 \text{ km/h}$ . El móvil 2 parte  $1 \text{ h}$  antes que el móvil 1.
- Elija un origen de tiempo y un sistema de referencia.
  - Escriba los vectores velocidad  $\vec{v}_1$  y  $\vec{v}_2$  de los móviles 1 y 2, respectivamente.
  - En un mismo gráfico represente posición vs. tiempo para ambos móviles. Interprete el significado del punto de intersección de ambas curvas.
  - En un mismo gráfico represente velocidad vs. tiempo para ambos móviles. ¿Cómo encontraría en este gráfico el tiempo de encuentro?
  - Repetir los ítems anteriores para el caso en que ambos móviles viajan desde A hacia B.
- 5 - Un cuerpo viaja en línea recta con aceleración constante de módulo desconocido  $a$  y dirección como la de la figura. En el instante  $t = 0$  el móvil pasa por el punto A con velocidad  $\vec{v}_0$  como la de la figura, en  $t = t_0$  el móvil llega a B y tiene velocidad nula y en  $t = t_1$  el móvil pasa por C.
- Elija un sistema de referencia y escriba las expresiones para la posición y la velocidad del móvil en función del tiempo, o sea  $x(t)$  y  $v(t)$ .
  - Halle  $a$  y la distancia AB.
  - Calcule la distancia BC y la velocidad del móvil cuando pasa por C. ¿Puede usar para este cálculo las expresiones  $x(t)$  y  $v(t)$  que escribió en el inciso a) ?
  - Halle la velocidad media entre A y B y entre A y C.



- 6 – Un auto viaja por una ruta a  $20 \text{ m/s}$ . Un perro se cruza a  $50 \text{ m}$ .
- ¿Cómo deben ser los sentidos de los vectores aceleración y velocidad para que el auto frene?
  - ¿Cuál es la aceleración mínima que debe imprimirse al automóvil para no chocar al perro?
  - Ídem que (b) teniendo en cuenta que el tiempo de respuesta del chofer es  $0,3 \text{ s}$ .
  - Muestre la situación calculada en (b) y (c) en un gráfico posición vs tiempo.
- 7 - Un cuerpo se deja caer desde un globo aerostático que desciende a  $12 \text{ m/s}$ .
- Elija un sistema de referencia y escriba las ecuaciones que describen el movimiento del cuerpo.
  - Calcule la velocidad y la distancia recorrida por el cuerpo al cabo de  $10 \text{ s}$ .
  - Resuelva los incisos (a) y (b) considerando que el globo asciende a  $12 \text{ m/s}$ .
- 8 - Un cuerpo se mueve a lo largo de una línea recta de acuerdo a la ecuación
- $$x = -kt^3 + bt^2, \text{ con } k, b \text{ constantes } \geq 0.$$
- Calcule la velocidad y la aceleración del cuerpo en función del tiempo, y gráfíquelas.
  - Halle el instante de tiempo, y la correspondiente posición, en el cual el cuerpo tendrá velocidad nula.
  - Describa cualitativamente el movimiento indicando en qué intervalos de tiempo el movimiento es acelerado y en cuáles desacelerado.
- 9 - Desde una terraza a  $40 \text{ m}$  del suelo se lanza hacia arriba una piedra con una velocidad de  $15 \text{ m/s}$ .
- ¿Con qué velocidad vuelve a pasar por el nivel de la terraza?
  - ¿Cuánto tiempo pasa hasta que llega al suelo?
  - ¿Cuándo y dónde se encuentra con otra piedra arrojada desde el suelo hacia arriba con una velocidad de  $55 \text{ m/s}$ , que parte desde el suelo en el mismo instante que la anterior? Represente gráficamente.
- 10 - Un automóvil cuya velocidad es  $90 \text{ km/h}$  pasa ante un puesto caminero. En ese instante sale en su persecución un patrullero que parte del reposo y acelera uniformemente de modo que alcanza una velocidad de  $90 \text{ km/h}$  en  $10 \text{ s}$ . Halle:
- el tiempo que dura la persecución.
  - el punto en que el patrullero alcanza el automóvil.
  - la velocidad del patrullero en el punto de alcance.
- 11 – Un cuerpo se mueve en línea recta partiendo a  $t_0 = 0$  de  $x_0 = 0$  con velocidad  $v_0$ . Encuentre  $x(t)$  en los casos en que la aceleración del cuerpo está dada por la ecuación:
- $a = kt^2$  ,  $k > 0$  ( $k$  constante).
  - $a = -kv^2$  ,  $k > 0$  ( $k$  constante).
  - $a = kvx$  ,  $k > 0$  ( $k$  constante).
- 12 – Un nadador puede nadar a  $0,7 \text{ m/s}$  en aguas quietas. Quiere cruzar un río de  $50 \text{ m}$  de ancho. La corriente del agua es de  $0,5 \text{ m/s}$ .
- Para llegar al punto opuesto en la otra orilla, ¿en qué dirección debe nadar? ¿Cuánto tarda en cruzar?
  - Para cruzar en el menor tiempo posible, ¿en qué dirección debe nadar? ¿A qué punto llegará?
- 13 - Un avión vuela hacia un punto situado  $200 \text{ km}$  al este del punto de partida. El viento sopla en dirección  $NO-SE$  ( $45^\circ$  respecto del norte) a  $30 \text{ km/h}$ . El piloto debe llegar al cabo de  $40 \text{ min}$ .
- ¿Cuál debe ser la orientación del vuelo?
  - ¿Cuál debe ser la velocidad del avión respecto del aire?

- 14 - Un avión cuya velocidad media es de  $300 \text{ km/h}$  hace un viaje diario de ida y vuelta hasta un lugar que dista  $400 \text{ km}$  al norte. Encuentre el tiempo total de vuelo cuando:
- no sopla viento.
  - hay viento del este a  $100 \text{ km/h}$
  - hay viento del sur a  $100 \text{ km/h}$
  - hay viento del sudeste a  $100 \text{ km/h}$ .
- 15 – Desde una terraza ubicada a  $50 \text{ m}$  de altura, se arroja un proyectil con una velocidad inicial de  $500 \text{ m/s}$  formando un ángulo de  $60^\circ$  con la horizontal. Considere la aceleración de la gravedad como  $10 \text{ m/s}^2$ .
- Elija el sistema de coordenadas que considere apropiado y escriba en él la posición, la velocidad y la aceleración del proyectil como función del tiempo.
  - Encuentre la ecuación de la trayectoria.
  - Encuentre la posición para la cual la altura alcanzada por el proyectil es máxima.
  - Calcule la posición y la velocidad del proyectil cuando llega a tierra.
- 16 – Un bombardero que vuela horizontalmente a una altura de  $300 \text{ m}$  y con una velocidad de  $72 \text{ m/s}$ , ataca a un barco que navega en su misma dirección con una velocidad de  $2,4 \text{ m/s}$ . Si se desprecia la resistencia del aire, ¿a qué distancia del barco debe lanzar la bomba?
- 17- Un helicóptero se encuentra suspendido en la posición  $x = L$ ,  $y = H$ . En  $t = 0$  el helicóptero comienza a descender con aceleración  $a_y = -kt$  ( $k > 0$ ). En el origen de coordenadas hay un cañón que forma un ángulo  $\alpha$  con la horizontal y dispara proyectiles con velocidad de salida  $v_0$ .
- Encuentre la trayectoria del proyectil. Grafique  $y$  vs  $x$  para el proyectil y para el helicóptero.
  - ¿Para qué valores de  $v_0$  la trayectoria del proyectil y la del helicóptero se intersectan?
  - Si  $v_0$  es alguno de los valores hallados en b) diga en qué instante debe efectuarse el disparo para que el proyectil haga impacto sobre el helicóptero.
- 18 – Una semilla es expulsada por un árbol, desde un punto ubicado a  $60 \text{ m}$  de suelo y justo encima del tronco, con una velocidad de  $30 \text{ cm/s}$  hacia abajo formando un ángulo de  $30^\circ$  con la vertical hacia el tronco, como se muestra en la figura. Si sopla viento como se indica en la figura con una velocidad de  $40 \text{ km/h}$ , calcule:
- a qué distancia del pie del árbol toca el suelo.
  - en qué tiempo lo hace.
  - con qué velocidad llega a tierra. ¿Respecto de quién mide esa velocidad?



- 19 - Sobre una rampa inclinada a  $30^\circ$  respecto de la horizontal, un móvil asciende con aceleración respecto de la rampa de  $1 \text{ m/s}^2$ . Si la rampa se acelera a partir del reposo hacia la derecha a  $0,5 \text{ m/seg}^2$ :
- ¿cuál es la aceleración del móvil respecto de la tierra?
  - ¿qué velocidad adquiere el móvil al cabo de  $1 \text{ s}$  respecto de la rampa y de la tierra?
- 20 –
- Calcule la velocidad angular de las agujas del reloj horaria y minutero.
  - Sabiendo que ambas agujas se superponen a las 0 h, calcule a qué horas del día vuelven a superponerse.
  - ¿ Existe superposición de las tres agujas (horaria, minutero y segundero) en alguna hora?

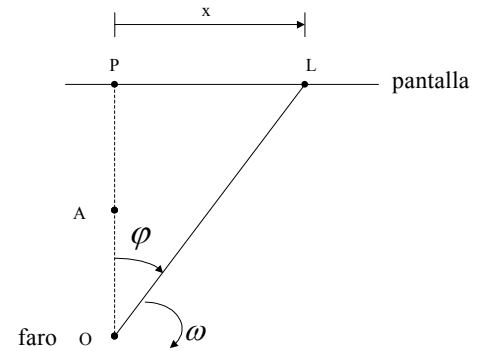
21 - Un faro que gira con velocidad angular constante  $\omega$ , proyecta su luz sobre una pantalla ubicada a una distancia  $d = \overline{OP}$ .

a) Halle la velocidad lineal del punto luminoso sobre la pantalla en función de los datos y de  $x$ .

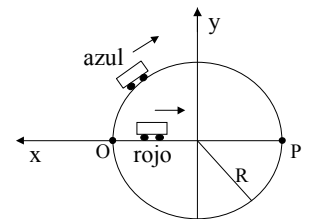
b) Calcule en función de los datos y de  $x$  la velocidad angular del punto luminoso para un observador situado a una distancia  $D = \overline{AP}$  de la pantalla.

(Sugerencia: haga este cálculo usando trigonometría)

c) ¿Cómo debería ser la velocidad angular del faro para que el punto luminoso se mueva con velocidad constante?



22 - Un auto azul parte del reposo desde el punto  $O$  en el instante  $t = 0$ , y describe una trayectoria circular de radio  $R = 90$  m con una aceleración angular  $\Gamma_a = kt$  ( $k = \frac{\pi}{6} s^{-3}$ ). Pasado un tiempo de 3 s desde la partida del auto azul, parte del reposo desde  $O$  un auto rojo que se mueve en línea recta hacia el punto  $P$  con una aceleración constante:  $a_r = -a_0 \hat{x}$



a) ¿Cuánto tiempo tarda el auto azul en llegar al punto  $P$ ?

b) ¿Cuál debe ser el valor de  $a_0$  para que el auto rojo pueda alcanzar al azul en el punto  $P$ ?

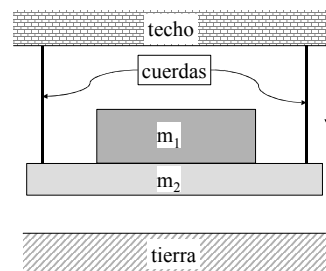
### DINÁMICA

1 – a) En el sistema de la figura señale las fuerzas que actúan sobre cada uno de los cuerpos e indique los pares de acción y reacción.

Sugerencia: aísle cada cuerpo, dibuje las fuerzas que actúan sobre él, aclarando qué interacción las origina.

b) En un dado instante se cortan ambas cuerdas. Repita el análisis hecho en el punto a), mientras los cuerpos 1 y 2 caen.

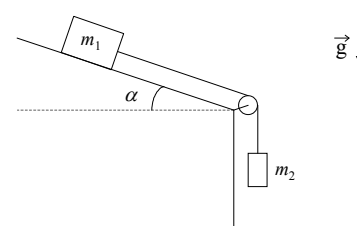
c) Repita el análisis hecho en a) a partir del momento en que 1 y 2 están en reposo sobre la tierra



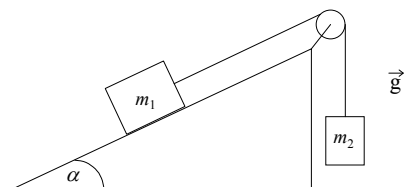
2 - Sea el sistema de la figura. No hay rozamiento; el hilo inextensible tiene masa despreciable y la polea también tiene masa despreciable y no hay en ella rozamiento.

a) Diga cuáles son todas las fuerzas ejercidas sobre cada masa y sobre el hilo. Indique los pares de acción y reacción.

b) ¿Cuál es la aceleración del sistema en función de  $m_1$ ,  $m_2$ ,  $\alpha$  y  $g$ ?



3 - El sistema de la figura, formado por dos partículas de masas  $m_1$  y  $m_2$ , parte del reposo y se mueve de tal forma que la masa  $m_1$  sube recorriendo todo el plano inclinado en un tiempo  $T$ . Intercambiando las partículas,  $m_2$  recorre todo el plano subiendo en un tiempo  $T/4$  (no hay rozamiento). Sabiendo que  $m_1/m_2 = 9$ , hallar  $\alpha$ .



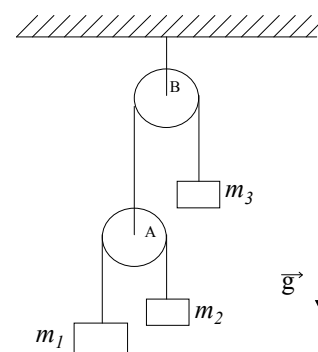
4 - El sistema de la figura se encuentra inicialmente en reposo.

Las poleas y los hilos tienen masas despreciables, los hilos son inextensibles.

a) Elija un sistema de coordenadas que considere apropiado y escriba en ese sistema las ecuaciones de Newton para cada masa. Escriba la condición de vínculo que relaciona sus posiciones.

b) Halle la aceleración de cada cuerpo y las tensiones en los hilos en función de las masas y de  $g$ .

c) Para  $m_1 = 1,5 m_2$  y  $m_3 = 5 m_2$ ;  $g = 10 m/s^2$ , calcule la aceleración de cada cuerpo. ¿El resultado es independiente del valor numérico de  $m_2$ ?

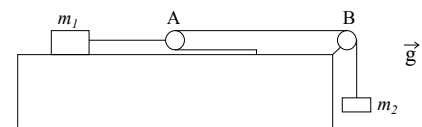


5 - Como se muestra en la figura, un cuerpo de masa  $m_1$  está ubicado sobre una mesa plana sin rozamiento. Considere que las sogas son inextensibles, y que tanto sogas como poleas tienen masas despreciables. El sistema se encuentra inicialmente en reposo y la polea A es móvil.

a) Escriba las ecuaciones de Newton para ambas masas y la condición de vínculo que relaciona sus posiciones.

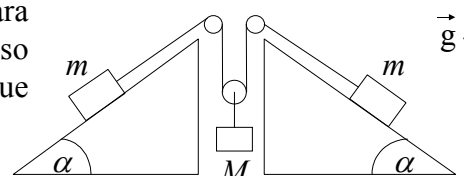
b) Cuando el sistema comienza a moverse, diga cuál es la relación que debe existir entre las distancias  $d_1$  y  $d_2$  recorridas por  $m_1$  y  $m_2$  (condición de vínculo).

c) Encuentre la aceleración de cada masa y las tensiones en los hilos en función de  $m_1$ ,  $m_2$  y  $g$ .



6 - El sistema de la figura utiliza dos contrapesos de masa  $m$  para levantar un cuerpo de masa  $M$ , que se halla inicialmente en reposo sobre el piso. Considere que las sogas son inextensibles, y que tanto sogas como poleas tienen masas despreciables.

a) Escriba las ecuaciones de Newton y las de vínculo.



- b) Calcule la aceleración de cada masa en función de  $m$ ,  $M$ ,  $\alpha$  y  $g$ .
- c) Si el sistema comienza a accionar cuando se quitan los soportes que sostienen los contrapesos, indicar cuál es el mínimo valor de  $m$  para levantar el cuerpo a una altura  $H$  en un tiempo  $T$ .

7 - Un bloque de masa  $m_1$  está colocado sobre un plano inclinado de masa  $m_2$  como muestra la figura. El plano inclinado descansa sobre una superficie horizontal. Ambas superficies son sin fricción y ambas, el bloque y el plano, pueden moverse (ver figura).

- i) Si el plano inclinado está fijo, halle las componentes  $x$  e  $y$  de la aceleración del bloque.
- ii) Si el plano inclinado es libre de moverse, muestre:

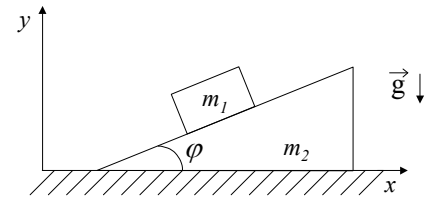
a) que la componente  $x$  de la aceleración del bloque ( $a_{1x}$ ) es:

$$a_{1x} = -m_2 g \tan \varphi / (m_2 \sec^2 \varphi + m_1 \tan^2 \varphi)$$

b) que la componente  $x$  de la aceleración del plano inclinado ( $a_{2x}$ , su única componente) es:

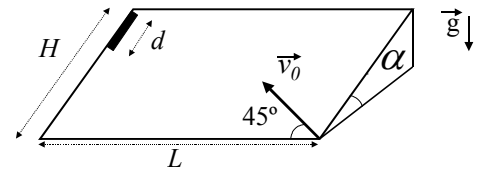
$$a_{2x} = m_1 g \tan \varphi / (m_2 \sec^2 \varphi + m_1 \tan^2 \varphi)$$

c) que  $a_{1y}$  es:  $a_{1y} = -(m_1 + m_2) g \tan^2 \varphi / (m_2 \sec^2 \varphi + m_1 \tan^2 \varphi)$



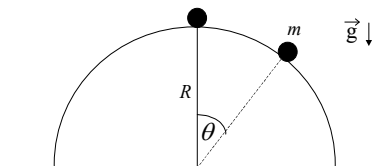
8 - Una varilla de longitud  $d$  se deja caer sobre un plano inclinado sin rozamiento como se ve en la figura, con  $H$ ,  $L$  y  $\alpha$  como datos. Un segundo después se dispara un proyectil sobre el plano con una velocidad inicial  $\vec{v}_0$  formando un ángulo de  $45^\circ$  con respecto a la base del plano.

- a) Escriba las ecuaciones de Newton para el proyectil y la varilla utilizando un sistema de referencia fijo a la superficie del plano.
- b) Calcule las aceleraciones de ambos cuerpos. Diga para qué valores de  $v_0$  el proyectil alcanza la varilla.



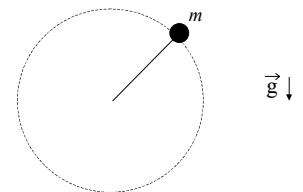
9 - Una masa se desliza sobre una semiesfera de radio  $R$  sin fricción.

- a) Calcular el ángulo  $\theta$  para el cual se separa de la superficie esférica si inicialmente la masa  $m$  es apartada, en un ángulo muy pequeño, de  $\theta = 0$  y su velocidad inicial es cero.
- b) Si la masa  $m$  se engarza en un riel semicircular sin fricción de radio  $R$ , hallar la velocidad con que llega al suelo. ¿Qué aceleración tangencial tiene  $m$  en ese instante?



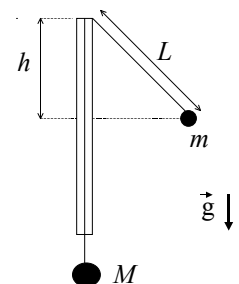
10 - Considere una partícula de masa  $m$  sujeta a una varilla rígida que le comunica un movimiento circular uniforme, en un plano vertical, con velocidad angular  $\omega$ .

- a) Escriba la ecuación de Newton para la partícula y las condiciones de vínculo a las que está sujeto el movimiento.
- b) Calcule la fuerza ejercida por la barra en función del ángulo  $\varphi$ .



11 - Un hilo inextensible pasa a través de un tubo delgado de vidrio y dos cuerpos de masas  $M$  y  $m$  ( $M > m$ ) penden de los extremos del hilo como se indica en la figura. El cuerpo de masa  $m$  realiza una trayectoria circular alrededor del tubo, en un plano horizontal, de tal forma que  $M$  permanece en reposo. El período del movimiento es  $T$ .

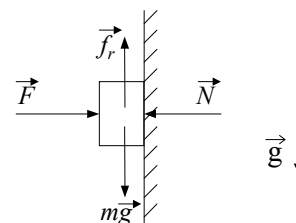
- a) Diga cuál es el ángulo entre el hilo y el tubo en función de  $m$  y  $M$ .
- b) Expresar el valor de  $L$  en función de  $T$ ,  $m$ ,  $M$  y  $g$ .
- c) Expresar  $T$  en función de  $g$  y  $h$ .





12 - Analice la falacia del siguiente razonamiento :

*'Sobre un cuerpo apoyado sobre la pared se ejerce una fuerza  $F$ , normal a la misma. El cuerpo está en reposo porque su peso es equilibrado por la fuerza de rozamiento  $f_r$ , y la fuerza  $F$  por la normal que ejerce la pared  $N$ . Como  $f_r$  es proporcional a la normal, podemos conseguir que el cuerpo ascienda aumentando el valor de  $F$ .*

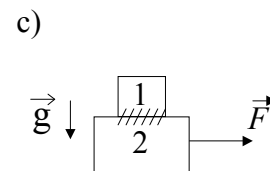
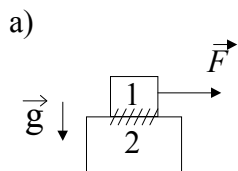


13 - Un cuerpo se apoya sobre un plano inclinado que forma un ángulo  $\alpha$  con la horizontal. El coeficiente de rozamiento estático entre el cuerpo y el plano es  $\mu_e = 0,2$  y el dinámico,  $\mu_d = 0,1$ .

- ¿Cuánto debe valer  $\alpha$  para que el cuerpo abandone su estado inicial de reposo?
- ¿Cuál es la aceleración del cuerpo para el ángulo calculado en (a)?
- Calcule, con el cuerpo en movimiento, cuál es el ángulo límite para que el cuerpo no esté acelerado.

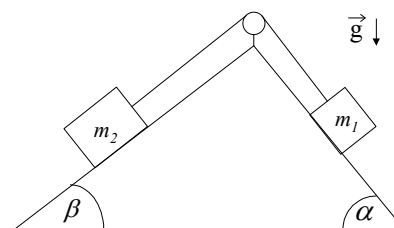
14 - Un cuerpo de masa  $m_1$  se apoya sobre otro de masa  $m_2$  como indica la figura. El coeficiente de rozamiento estático entre ambos es  $\mu_E$ . No hay rozamiento entre la mesa y el cuerpo 2.

- ¿Cuál es la fuerza máxima aplicada sobre el cuerpo 1, que acelera a ambos cuerpos, sin que deslice uno respecto del otro?
- ¿Cuál es la aceleración del sistema?
- Ídem que a) y b) pero si se aplica la fuerza sobre el cuerpo 2.
- Se aplica ahora sobre la masa 2 una fuerza el doble de la calculada en a). ¿Cuál es la aceleración de  $m_1$  y  $m_2$  si el coeficiente de rozamiento dinámico es  $\mu_D$ ?
- Si la dimensión del cuerpo 2 es  $L$  y la del cuerpo 1 es  $l \ll L$ , ¿cuánto tardará en caerse si inicialmente estaba apoyada  $m_1$  en el centro de  $m_2$ ?

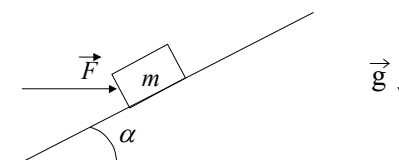


15 - Sea el sistema de la figura donde  $\mu_D = 0,25$ ,  $\mu_E = 0,3$ .

- Inicialmente se lo traba de modo que esté en reposo. Cuando se lo destraba, diga qué relaciones se deben cumplir entre las masas y los ángulos para que quede en reposo.
- Si  $m_1 = 1$  kg,  $m_2 = 2$  kg,  $\alpha = 60^\circ$  y  $\beta = 30^\circ$ , ¿se pondrá en movimiento el sistema?
- Suponga ahora que inicialmente se le da al sistema cierta velocidad inicial y que los datos son los dados en (b). Encuentre la aceleración y describa cómo será el movimiento del sistema teniendo en cuenta los dos sentidos posibles de dicha velocidad.



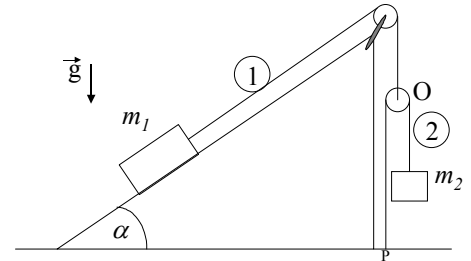
16 - Se tiene un bloque de masa  $m$  sobre un plano inclinado. El coeficiente de rozamiento estático entre el bloque y el plano es  $\mu_E$ . Se trata de mover el bloque ejerciendo una fuerza  $\vec{F}$ .



- Si se conoce  $m$  y  $\mu_E$  y si  $\vec{F} = 0$ , ¿para qué valores de  $\alpha$  estará el bloque en reposo?
- Si  $\alpha$  es alguno de los hallados en (a), ¿para qué valores de  $\vec{F}$  permanecerá el bloque en reposo?
- Si  $m = 2$  kg y  $\mu_E = \text{tg } \alpha = 0,3$ , hallar la  $\vec{F}$  máxima que se puede ejercer de modo que el bloque no se mueva.

- 17 - Un automóvil recorre una autopista que en un tramo tiene un radio de curvatura  $R$ . El automóvil se mueve con velocidad constante  $v$ . La autopista es horizontal (sin peralte).
- ¿Cuál debe ser el mínimo coeficiente de rozamiento para que el automóvil no deslice? (¿Estático o dinámico? ¿Por qué?)
  - ¿Con qué peralte le aconsejaría a un ingeniero que construya una autopista que en una zona tiene un radio de curvatura  $R$ ? Suponga que no hay rozamiento y que todos los autos tienen velocidad  $v$ .

- 18 - Considere dos partículas de masas  $m_1$  y  $m_2$  y dos poleas de masa despreciable dispuestas como en la figura. La partícula  $m_1$  está sobre un plano (fijo al piso) inclinado un ángulo  $\alpha$  siendo respectivamente  $\mu_e$  y  $\mu_d$  los coeficientes de rozamiento estático y dinámico entre la partícula  $m_1$  y el plano. Los hilos (1) y (2) son inextensibles y de masa despreciable, y el hilo (2) está atado al piso en el punto P.

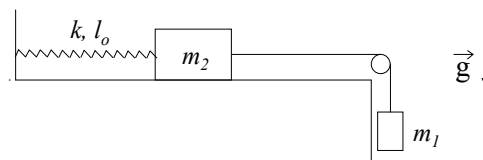


- Dibuje  $m_1$ ,  $m_2$  y las poleas por separado e indique las fuerzas que actúan sobre cada uno. Plantee las ecuaciones de Newton y de vínculo.
- Halle la aceleración de  $m_1$  en función de la aceleración de  $m_2$ . ¿Influye en el resultado el hecho de que los hilos sean inextensibles?
- Si el sistema se halla en reposo, encuentre dentro de qué rango de valores debe estar  $m_2$ .
- Si  $m_2$  desciende con aceleración constante  $A$ :
  - calcule  $m_2$ . Diga, justificando su respuesta, si la aceleración  $A$  puede ser tal que  $A > g$ .
  - expresé la posición de la polea O en función del tiempo y de los datos si en el instante inicial estaba a distancia  $h$  del piso con velocidad nula. ¿La polea se acerca o se aleja del piso?

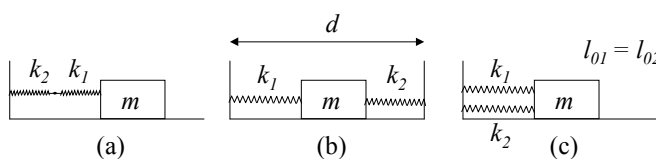
### MOVIMIENTO OSCILATORIO

- 1 - Un objeto puntual realiza un movimiento circular uniforme de radio  $R = 5 \text{ cm}$  y período  $\tau = 1 \text{ s}$ . Hallar:
  - a) su frecuencia, su velocidad angular, su velocidad tangencial y su aceleración centrípeta.
  - b) las componentes cartesianas del movimiento, sabiendo que a  $t = 0 \text{ s}$  el ángulo  $\phi$  es  $0^\circ$ .
  - c) las componentes cartesianas de la velocidad y de la aceleración. Analice para qué posiciones obtiene sus valores máximo y mínimo.
  - d) ¿Qué tipo de fuerza produciría un movimiento unidimensional tal como el de la proyección del movimiento circular sobre uno de los ejes? ¿Qué significado tiene aquí la velocidad angular?
  
- 2 - Un objeto puntual realiza un movimiento oscilatorio armónico. En  $t = 0 \text{ s}$  la elongación es  $y = 0,37 \text{ cm}$  y su velocidad es  $0 \text{ m/s}$ . La frecuencia del movimiento es  $\nu = 0,25 \text{ Hz}$ .
  - a) Determinar el período, la pulsación y la amplitud del movimiento.
  - b) Escribir la ecuación de movimiento, la velocidad y la aceleración como función del tiempo.
  - c) Determinar la aceleración máxima,  $v(3\text{s})$  e  $y(3\text{s})$ .
  
- 3 - Considere una partícula de masa  $m$  suspendida del techo por medio de un resorte de constante elástica  $k$  y longitud natural  $l_0$ . Determine cómo varía la posición con el tiempo sabiendo que en  $t = 0$  la partícula se halla a una distancia  $2l_0$  del techo, con velocidad nula.

- 4 - El sistema de la figura se compone de dos cuerpos de masas  $m_1$  y  $m_2$  y un resorte de constante  $k$  y longitud natural  $l_0$ . El sistema se encuentra en equilibrio y se lo pone en movimiento imprimiendo a la masa  $m_1$  una velocidad  $v_0$  hacia abajo. No hay rozamiento.
  - a) Plantee las ecuaciones de Newton y de vínculo para  $m_1$  y para  $m_2$ .
  - b) Diga cómo varía la posición de  $m_2$  con el tiempo.



- 5 - Sean dos resortes de constantes elásticas  $k_1$  y  $k_2$ , y un cuerpo de masa  $m$  que desliza sin rozamiento, conectados como muestran las figuras a), b) y c).



- i) Demostrar que la frecuencia de oscilación de  $m$  vale:

en el caso a):  $f = \frac{1}{2\pi} \sqrt{\frac{k_1 k_2}{(k_1 + k_2) m}}$  ; y en los casos b) y c):  $f = \frac{1}{2\pi} \sqrt{\frac{k_1 + k_2}{m}}$

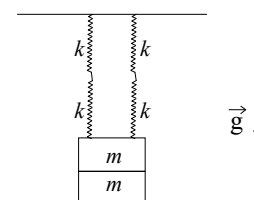
- ii) Encuentre las posiciones de equilibrio sabiendo que los resortes tienen longitudes naturales  $l_{01}$  y  $l_{02}$ .

- 6 - Cuatro resortes idénticos de constante elástica  $k$  desconocida y longitud natural  $l_0$  se hallan sosteniendo un cuerpo formado por dos pesas de masa  $m$  cada una, como muestra la figura.

- a) Sabiendo que la posición de equilibrio del cuerpo se halla a una distancia  $d$  del techo, encuentre el valor de  $k$ .

- b) Estando el sistema en su posición de equilibrio se retira una de las pesas sin perturbarlo y se lo deja en libertad.

- i) Obtenga la ecuación que rige el movimiento posterior del sistema. Calcule el período de oscilación y la nueva posición de equilibrio.

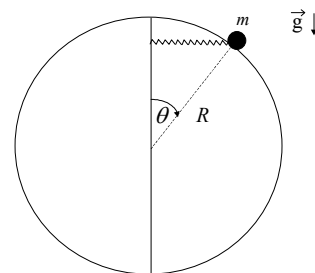


ii) Utilizando las condiciones iniciales halle la posición del cuerpo en función del tiempo.

7 - Un cuerpo suspendido de un hilo inextensible de longitud 80 cm realiza un movimiento oscilatorio en un plano siendo  $\theta = \theta(t)$  el ángulo entre la vertical y el hilo.

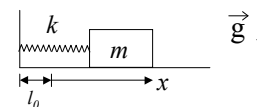
- Plantee las ecuaciones de Newton para el cuerpo.
- ¿Bajo qué aproximación el movimiento es armónico? ¿Qué período tiene?
- Si en  $t = 0$  es  $\theta = 0$  y  $\dot{\theta} = 0,2 \text{ s}^{-1}$ , ¿se satisface la aproximación de b)  $\forall t$ ?
- Usando las ecuaciones planteadas en a), halle la posición de equilibrio y diga si es estable o inestable y por qué.

8 - Una masa  $m$  está enhebrada en un aro circular sin fricción de radio  $R$  y unida al extremo de un resorte de constante  $k$  y longitud natural nula (se considera despreciable frente al radio del aro). El otro extremo del resorte corre libremente a lo largo de un eje vertical, de modo tal que el resorte permanece siempre en posición horizontal (ver figura).



- Halle las ecuaciones de Newton para  $m$ .
- Si inicialmente la masa se encuentra en  $\theta = \pi/2$  con velocidad nula, halle la expresión de la fuerza de vínculo con el aro en función del ángulo  $\theta$ .
- Encuentre las posiciones de equilibrio y analice si son estables o inestables.

9 - El sistema de la figura está sumergido en un medio que le ejerce una fuerza de rozamiento proporcional a la velocidad del cuerpo. La constante de proporcionalidad es  $r$ .



- Escriba el vector fuerza de rozamiento.
- Escriba la ecuación de movimiento.
- Definiendo  $\beta = r/2m$ ,  $\omega_0^2 = k/m$ , halle las soluciones  $x(t)$  de la ecuación de movimiento y verifique que:

i) si  $\beta^2 > \omega_0^2$ , entonces: 
$$x(t) = e^{-\beta t} \left( A_1 e^{\sqrt{\beta^2 - \omega_0^2} t} + A_2 e^{-\sqrt{\beta^2 - \omega_0^2} t} \right)$$

ii) Si  $\beta^2 = \omega_0^2$ , entonces: 
$$x(t) = e^{-\beta t} (A_1 + A_2 t)$$

iii) Si  $\beta^2 < \omega_0^2$ , entonces: 
$$x(t) = A e^{-\beta t} \cos(\sqrt{\omega_0^2 - \beta^2} t + \varphi)$$

d) Grafique  $x$  versus  $t$  para los tres casos de c) y analice los gráficos.

## TRABAJO Y ENERGÍA

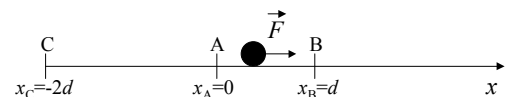
- 1 - a) ¿Qué trabajo realiza un levantador de pesas que levanta  $100\text{ kg}$  a una altura de  $2\text{ m}$ ? (note que la pesa tiene velocidades inicial y final nulas)  
 b) Compare el resultado en i) con el trabajo realizado por una persona de  $70\text{ kg}$  que sube cuatro pisos por escalera (distancia vertical:  $12\text{ m}$ ).

- 2 - a) Calcule la fuerza mínima necesaria para subir un cuerpo de masa  $50\text{ kg}$ , con velocidad constante desde A hasta B ( $h_{AB} = 5\text{ m}$ ) si se utiliza un plano inclinado que forma un ángulo de  $45^\circ$  con la horizontal. No hay rozamiento.

Calcule el trabajo de la fuerza.

- b) Calcule la fuerza mínima necesaria para desplazarlo horizontalmente a velocidad constante y la fuerza mínima para izarlo verticalmente. Calcule en este caso el trabajo necesario para llevarlo desde A hasta B. ¿Qué conclusiones extrae de los resultados obtenidos?


- 3 - Una partícula de masa  $m$  se desplaza horizontalmente desde la posición  $x_A = 0$  hasta la posición  $x_B = d$ , y luego desde  $x_B$  hasta la posición  $x_C = -2d$  con  $d > 0$  (ver figura), bajo la acción de una fuerza  $F$ . Para los siguientes valores de  $F$ :



(i)  $F = -kx$ , (ii)  $F = kx^2$ , (iii)  $F = -k|x|x$ , ( $k > 0$ ), calcule:

- a) el trabajo realizado por la fuerza  $F$  entre A y B, entre B y C y entre A y C.  
 b) en el caso en que esto sea posible, la energía potencial asociada a la fuerza  $F$ . Grafíquela.
- 4 - Una partícula de masa  $m$  se mueve sobre una superficie horizontal. El coeficiente de rozamiento es  $\mu_d$ . Considere una trayectoria circular de radio  $R$ .
- a) Calcule el trabajo de la fuerza de rozamiento cuando la partícula se mueve desde A hasta B, siendo A y B dos puntos diametralmente opuestos.
- b) Repita el cálculo anterior cuando la partícula se mueve sobre la recta AB.

- 5 - En la figura se muestra el esquema de un juguete que consiste en un auto sobre un riel que forma un círculo vertical de radio  $R$ .



- a) ¿Cuál es la velocidad mínima del autito en la parte superior del lazo para que no se caiga?  
 b) Suponiendo que el rozamiento es despreciable, ¿cuál es la altura  $h$  desde la que se deberá dejar caer el auto?

- c) Después de haber usado este juguete varias veces, se observa que la altura  $h$  mínima requerida para que el auto dé la vuelta sin caerse, es 1,3 veces la calculada en b). ¿Cuál es el trabajo de las fuerzas disipativas?.

6 - Una partícula de masa  $m$  se mueve en una dimensión bajo la acción de una fuerza  $\vec{F} = -ax^3\hat{x}$ .

- Demuestre que dicha fuerza es conservativa y calcule el potencial.
- Grafique el potencial y analice los posibles movimientos de la partícula.

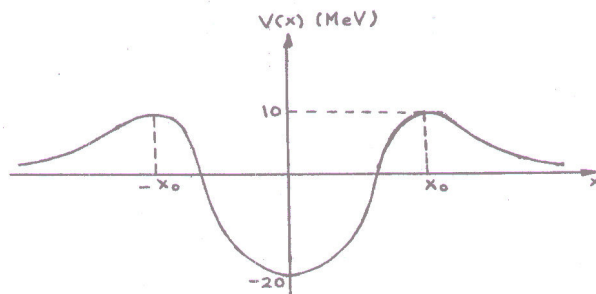
7 - El potencial nuclear para un protón es de la forma de la figura ( $1 \text{ MeV} = 10^6 \text{ eV}$ ,  $1 \text{ eV} = 1,6 \cdot 10^{-12} \text{ erg}$ ).

a) Analizar qué le pasa a un protón que incide desde  $x = \infty$  sobre el núcleo y a uno que está en la zona  $-x_0 < x < x_0$ .

b) ¿Qué significan valores negativos de energía potencial?

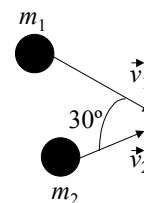
c) Sea un protón que está en el interior del núcleo con energía total nula. ¿Cuál es la máxima velocidad que puede tener el protón?

( $m_p = 1,67 \cdot 10^{-24} \text{ g}$ ). ¿Qué energía mínima se le debe entregar para que pueda escapar del núcleo? ¿Qué velocidad tendrá entonces una vez alejado totalmente del núcleo?



## CANTIDAD DE MOVIMIENTO E IMPULSO ANGULAR

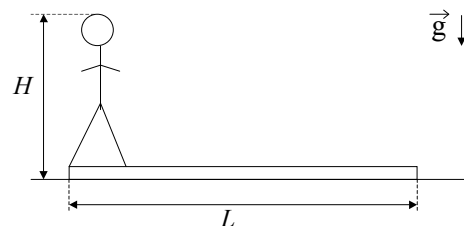
- 1 - Dos cuerpos que se mueven sobre una mesa libre de rozamiento se acercan con las direcciones indicadas en la figura, con velocidades  $v_1$  y  $v_2$ . Después del choque permanecen unidos. Calcular la velocidad final de ambos.



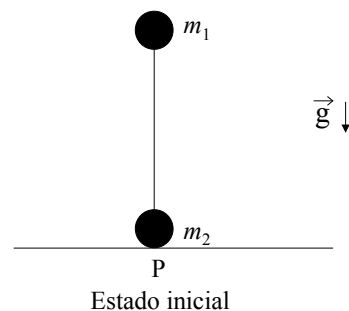
$$|\vec{v}_1| = 20 \text{ m/s}; \quad m_1 = 70 \text{ kg}; \quad |\vec{v}_2| = 40 \text{ m/s} \quad \text{y} \quad m_2 = 100 \text{ kg}$$

- 2 - Una bola de 1 kg que cae verticalmente choca contra el piso con una velocidad de 25 m/s y rebota con una velocidad inicial de 10 m/s. ¿Cuál es la variación de la cantidad de movimiento de la bola debida al choque? Si la bola está en contacto con el piso 0,02 s, ¿cuál es la fuerza media que ejerce sobre el piso?.
- 3 - El núcleo de uno de los isótopos de radio,  $Ra^{226}$ , tiene una masa de unos  $3,8 \times 10^{-22}$  g. Este núcleo sufre una desintegración radioactiva, emitiendo una partícula  $\alpha$  (núcleo de helio de  $6,7 \times 10^{-24}$  g). El núcleo residual es de radón, con una masa de  $3,7 \times 10^{-22}$  g. La velocidad de la partícula alfa es de 0,05 c (c: velocidad de la luz). ¿Cuál es la velocidad del núcleo residual? Desprecie la acción de la gravedad durante el proceso.
- 4 - En el espacio una explosión hace estallar una piedra de 30 kg en tres partes: una de 10 kg que sale con una velocidad de 6 m/s y otra de 8 kg que sale con una velocidad de 8 m/s y un ángulo de  $70^\circ$  con la dirección de la anterior. Desprecie la acción de la gravedad durante el proceso.
- a) Demostrar que el vector velocidad del tercer trozo está contenido en el plano definido por los otros 2.  
b) Averiguar la velocidad y la dirección con que se desprende dicho trozo.
- 5 - Hallar la posición del centro de masa del sistema Tierra-Luna para un instante dado. La masa de la Tierra es unas 82 veces la de la Luna y la distancia entre los centros de la Tierra y de la Luna es de unos 60 radios terrestres. Expresar la respuesta en función de los radios terrestres.

- 6 - Según puede verse en la figura un hombre de masa  $M$  y altura  $H$  está de pie en un extremo de un tablón homogéneo de longitud  $L$  y masa  $m$  apoyado sobre una superficie sin rozamiento. Inicialmente el hombre y el tablón están en reposo y luego el hombre camina hacia el otro extremo del tablón.

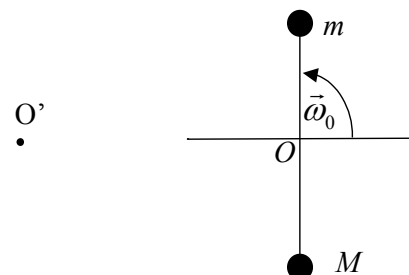


- a) Si el hombre se supone homogéneo, hallar la ubicación del centro de masa del sistema.  
b) Hallar la velocidad del centro de masa para todo instante.  
c) ¿Qué distancia habrá recorrido el hombre respecto a la superficie cuando llega al otro extremo del tablón?.
- 7 - Dos bolas de masas  $m_1$  y  $m_2$  están unidas por una barra de masa despreciable y longitud  $L$ . Inicialmente el sistema se halla en equilibrio inestable, estando la barra en posición vertical y  $m_2$  en contacto con una superficie horizontal, libre de rozamiento (ver figura). Se aparta el sistema de la posición de equilibrio inclinando levemente la barra. El sistema evoluciona de modo que en el estado final las dos bolas están en contacto con la superficie.
- a) Hallar la posición del centro de masa en el estado inicial.  
b) Hallar la componente horizontal de la velocidad del centro de masa.  
c) ¿A qué distancia de P quedará cada bola en el estado final?.



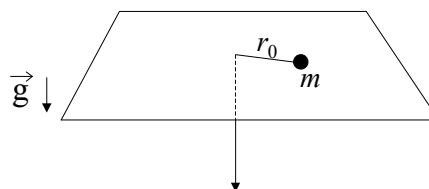
8 - Un hombre que pesa  $100\text{ kg}\vec{g}$  se encuentra en reposo sobre un lago helado (considere rozamiento nulo). Para salir, arroja horizontalmente una piedra que pesa  $1\text{ kg}\vec{g}$  con velocidad de  $10\text{ m/s}$  en dirección contraria a la de costa más cercana, que está a  $20\text{ m}$  de distancia. ¿Cuánto tarda el hombre en llegar a la costa?

9 - Considere el sistema de la figura formado por una barra de longitud  $L$  y masa despreciable, en cuyos extremos se hallan fijas sendas masas, de valores  $m$  y  $M$ . El sistema se halla apoyado sobre una superficie horizontal libre de rozamiento, y es libre de girar alrededor de un eje fijo  $O$ . El sistema se pone en movimiento en  $t = 0$  dándole una velocidad angular  $\omega_0$  a la barra.



- Indique qué fuerzas actúan sobre cada partícula y diga si se conserva la cantidad de movimiento y el impulso angular del sistema respecto a  $O$ .
- Calcule el impulso angular con respecto a  $O$  y determine cómo varía la velocidad angular de las barras con el tiempo.
- Calcule la posición y velocidad del centro de masa del sistema como función del tiempo.
- Calcule el impulso angular con respecto al punto  $O'$ , situado a una distancia  $D$  del punto  $O$ .

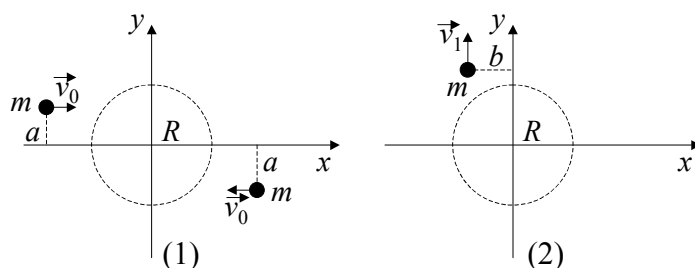
10 - Una partícula de masa  $m$  está atada al extremo de un hilo y se mueve en una trayectoria circular de radio  $r_0$  sobre una superficie horizontal sin fricción. El hilo pasa por un agujero en la superficie. Inicialmente su otro extremo se mantiene fijo. Si se tira lentamente del hilo, de forma que el radio disminuya, halle cómo varía la velocidad angular  $\omega$  en función de  $r$ , sabiendo que para  $r = r_0$  la velocidad angular era  $\omega_0$ .



11 - Dos patinadores sobre hielo, de masa  $m = 50\text{ kg}$  cada uno, se acercan mutuamente en trayectorias paralelas distantes  $3\text{ m}$  entre sí. Ambos patinan (sin fricción) a  $10\text{ m/s}$ . El primer patinador sostiene una varilla sin masa, de  $3\text{ m}$  de largo, de la que se toma el segundo.

- Describir cuantitativamente el movimiento de los dos a partir de ese momento.
- Suponer ahora que uno de ellos tira de la varilla, acortando la distancia a  $1\text{ m}$ . Describir el movimiento posterior.
- ¿Cómo y con qué velocidad se moverán los patinadores si repentinamente uno de ellos suelta la varilla? Resolver para los casos (a) y (b).

12 – Dos átomos de igual masa  $m$  que se mueven con velocidades iguales en módulo ( $v_0$ ) y dirección, pero en sentido contrario, interactúan cuando están en una región  $R$  del espacio tal como lo muestra la figura (1). Después de la interacción, uno de los átomos se mueve con velocidad  $\vec{v}_1$  como lo indica la figura (2).

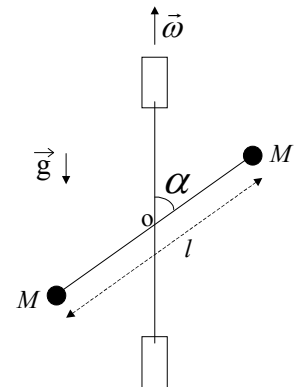


- ¿Se conservan la cantidad de movimiento y el impulso angular del sistema?.
- Calcule la velocidad del centro de masa antes, durante y después de la interacción.
- Encuentre la posición del centro de masa antes, durante y después de la interacción.
- ¿Cuál es la velocidad del otro átomo después de la interacción?.
- Encuentre la trayectoria del otro átomo después de la interacción.
- Compare  $v_1$  con  $v_0$  para diferentes valores del parámetro de impacto  $a$ , es decir, en los casos  $a > b$ ,  $a = b$  y  $a < b$ .



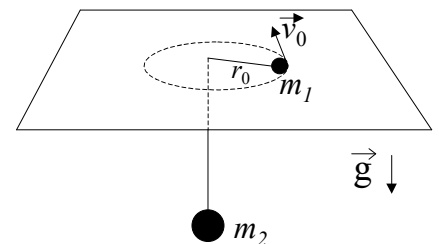
13 - En el sistema de la figura, dos barras rígidas de masa despreciable están soldadas en el punto O y forman un ángulo  $\alpha$ . Una de las barras tiene longitud  $l$ , su punto medio es O y en sus extremos se fijan dos pequeñas esferas de masa  $M$ . La otra barra está sostenida mediante dos bujes y es el eje de rotación del conjunto que gira con velocidad angular  $\vec{\omega}$  constante.

- Expresar el vector impulso angular del sistema en función del tiempo, respecto de O.
- Calcular el momento de las fuerzas efectuando la derivada temporal del impulso angular.
- Indicar en un esquema los resultados obtenidos en (a) y en (b) para un instante determinado (preste especial atención a la dirección y sentido de los vectores).
- Identificar cuáles son las fuerzas que producen el momento hallado en (b).
- ¿Influye en los resultados obtenidos la existencia o no de la gravedad, o su dirección?



## TEOREMAS DE CONSERVACIÓN

- 1 - Dos cuerpos de masas  $m_1$  y  $m_2$  y velocidades  $\vec{v}_1$  y  $\vec{v}_2$ , que se mueven sobre una misma recta, chocan elásticamente. Luego del choque, ambos cuerpos continúan moviéndose sobre la misma recta.
- Halle sus velocidades después del choque.
  - Calcule la variación de energía cinética de cada uno.
  - Resuelva (a) y (b) para el caso  $|\vec{v}_2| = 0$ .
  - Especialice los resultados obtenidos en (c) para los casos  $m_1 = m_2$ ,  $m_1 \gg m_2$  y  $m_1 \ll m_2$ .
- 2 - El carrito B ( $m_B = 2$  kg) está en reposo sobre una superficie horizontal a 10 m de la pared rígida C. El carro A ( $m_A = 10$  kg,  $|\vec{v}_A| = 10$  m/s) choca con B y luego B choca con C. Considerar todos los choques perfectamente elásticos.
- ¿Dónde chocan A y B por segunda vez?.
  - ¿Cuál es la velocidad de B después de chocar la segunda vez con A?.
  - ¿Se conserva el impulso lineal? Discutir.
  - ¿Cuál es la energía cinética transferida por A a B como resultado de cada uno de los choques? Discuta.
- Sugerencia: Aplique los resultados del problema 1.
- 3 - Una masa  $m_1$  se halla atada al extremo de una cuerda inextensible de longitud  $L$  y masa despreciable. Cuando la cuerda forma un ángulo  $\alpha$  con la vertical se suelta la masa  $m_1$  con velocidad nula. Al pasar por el punto más bajo de la trayectoria la masa  $m_1$  choca elásticamente con una masa  $m_2$  que cuelga de una cuerda igual a la anterior y que se halla inicialmente en reposo.
- Calcular la velocidad de ambas masas un instante después del choque.
  - Calcular la altura máxima alcanzada por ambas masas después del choque.
  - Discutir los resultados anteriores para los casos:  $m_1 \gg m_2$ ,  $m_1 = m_2$  y  $m_1 \ll m_2$ .
- 4 - Un cuerpo de masa  $m$  se halla sujeto a un resorte, de constante elástica  $k$  y longitud libre  $l_0$ , cuyo otro extremo está fijo a un eje. El sistema se encuentra sobre una superficie horizontal libre de rozamiento. En el instante inicial el resorte tiene una longitud  $2 l_0$  y la masa  $m$  tiene una velocidad  $\vec{v}_0$  formando un ángulo  $\alpha$  con la dirección del resorte.
- Diga qué magnitudes se conservan, justificando su respuesta.
  - Calcule la velocidad angular y la velocidad radial de  $m$  cuando la longitud del resorte es  $l = (3/2) l_0$ .
- 5 - El sistema de la figura consiste de dos masas ( $m_1$  y  $m_2$ ) unidas por un hilo inextensible que pasa por un orificio practicado en una mesa horizontal sin rozamiento. En cierto instante, la masa  $m_2$  está en reposo y la masa  $m_1$  se mueve con velocidad  $\vec{v}_0$  a una distancia  $r_0$  del orificio. La masa  $m_2$  puede, o no, continuar en reposo dependiendo de cierta relación matemática entre  $m_1$ ,  $m_2$ ,  $|\vec{v}_0|$ ,  $r_0$  y  $g$ .
- Determinar esa relación usando las ecuaciones de Newton.
  - Independientemente de que  $m_2$  se mueva o no, diga qué magnitudes se conservan. Justifique su respuesta.
  - Calcular las velocidades  $\vec{v}_1$  y  $\vec{v}_2$  de ambas partículas y el ángulo que forma  $\vec{v}_1$  con el hilo, en el instante en que  $m_2$  ha bajado una distancia  $d$ .
  - Grafique el potencial efectivo en función de la distancia de  $m_1$  al orificio. Expresé en función de la energía la condición para que  $m_2$  permanezca en reposo y compare con el resultado obtenido en a).

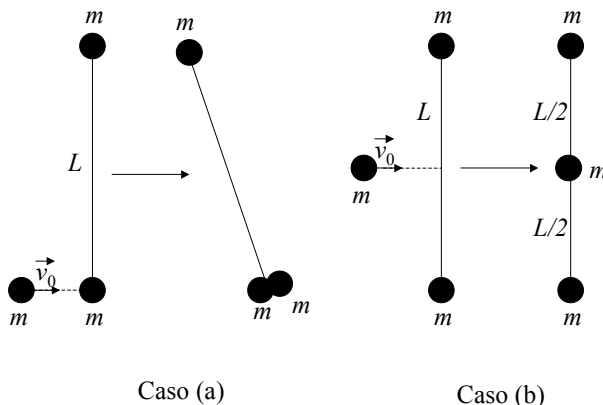


6 - Dos cuerpos de masa  $m$  que están unidos por un resorte de longitud libre  $l_0$  y constante elástica  $k$ , se encuentran sobre una superficie horizontal plana y carente de fricción. El sistema se pone en movimiento estirando el resorte hasta una longitud  $2 l_0$  y dándole una velocidad  $\vec{v}$  a cada una de las partículas, perpendicular al segmento que las une y en sentidos opuestos.

- a) ¿Cuál es la velocidad angular del sistema cuando la longitud del resorte es  $(3/2) l_0$ ?
- b) Calcule el vector velocidad de cada masa en esa posición.

7 - Dos partículas de masa  $m$  están sujetas a los extremos de una barra de longitud  $L$  y masa despreciable en reposo sobre una superficie horizontal exenta de rozamiento.

Otra partícula, también de masa  $m$ , se mueve a lo largo de una recta perpendicular a la barra con velocidad  $\vec{v}_0$  y choca quedándose adherida según se indica en las figuras. Describa cuantitativamente el movimiento después del choque, en particular, calcule la variación de energía cinética del sistema debida al choque plástico.



Caso (a)

Caso (b)